

తరగతి : 8వ

విషయము: సాంఘిక శాస్త్రం

మాధ్యమం : తెలుగు

మార్కులు: 30

సమయం : గం.0.30 ని.

పార్ట్ -B

I. విషయావగాహన

(5x1=5)

A. ఈ క్రింది వానిలో సరియైన జవాబును ఎన్నుకొని, బ్రాకెట్‌లో వ్రాయండి

1. సూర్యునికి అతి చేరువలో ఉన్న గ్రహం ()
(A) భూమి (B) బుధుడు (C) శని (D) శుక్రుడు
2. క్రింది మృత్తికలలో ఏవి నీటిని ఎక్కువ కాలం నిల్వ ఉంచుకుంటాయి? ()
(A) ఎర్రనేలలు (B) ఒండ్రునేలలు (C) నల్లరేగడి మృత్తికలు (D) జేగురు మృత్తికలు
3. క్రింది వారిలో ఆర్య సమాజస్థాపకులు ()
(A) స్వామి వివేకానంద (B) దయానంద సరస్వతి (C) వీరేశలింగం పంతులు
(D) ఈశ్వర చంద్ర విద్యాసాగర్
4. భారతదేశంలోని ప్రభుత్వం ()
(A) సైనిక ప్రభుత్వం (B) అధ్యక్ష ప్రభుత్వం (C) పార్లమెంటరీ ప్రభుత్వం (D) రాజరికం
5. క్రింది వానిలో ఉచితవస్తువు ()
(A) రేడియో (B) రైలు ప్రయాణం (C) స్కూటరు (D) గాలి

B. ఈ క్రింది ఖాళీలలో సరియైన పదాలను పూరించండి.

(5x1=5)

1. కొరత వస్తువు అనగా
2. ఉత్పత్తి సాధనాలను ప్రభుత్వ యాజమాన్య పరిధిలోకి తెచ్చి, నిర్వహించే విధానాన్ని అంటారు.
3. సాంస్కృతిక పునరుజ్జీవనము అనగా
4. విశాఖపట్నం ఓడరేవు
5. బాక్సైటు నుండి తయారు చేస్తారు.

C. జతపరుచుము

(5x1=5)




A		B
1 కొల్లేరు సరస్సు	()	A గోదావరి నది
2 పులికాట్ సరస్సు	()	B కృష్ణానది
3 ధవళేశ్వరం ఆనకట్ట	()	C మంచినీటి సరస్సు
4 నాగార్జున సాగర్ ఆనకట్ట	()	D మంజీరనది ఆనకట్ట
5 నిజాంసాగర్ ఆనకట్ట	()	E ఉప్పునీటి సరస్సు

II. సమాచార నైపుణ్యం

(5x1=5)

క్రింది పట్టికను గమనించి ఇవ్వబడిన ప్రశ్నలకు జవాబులు వ్రాయండి.

సాంకేతిక చిహ్నాలు

క్ర.సం.	అంశము	సాంకేతిక చిహ్నము
1	చర్చి	✠
2	దేవాలయము	
3	చెరువు	
4	బావి	○
5	నది	
6	మట్టిరోడ్డు	-----:


1. చెరువును సూచించు చిహ్నము

జ:

2. క్రింది వానిలో పట్టికలో ఇవ్వబడిన అంశము

()

(A) బావి (B) నది (C) కోట (D) చెరువు

3.  చిహ్నము సూచించే అంశము

()

(A) నది (B) బావి (C) చర్చి (D) తారురోడ్డు

4. పట్టికలోని చిహ్నాలను ఏ చిత్రాలలో ఉపయోగిస్తారు?

జ:

5. దేవాలయమును సూచించు చిహ్నము

జ:

III. పట నైపుణ్యం

(5x1=5)

క్రింది వానిని భారతదేశపటంలో గుర్తించండి.



క్రింది వానిని భారతదేశపటంలో గుర్తించండి.

(A) ముంబాయి (B) మైసూర్ (C) ఢిల్లీ (D) పశ్చిమ బెంగాల్ (E) అయోధ్య

IV. సామాజిక అంశాలపై ప్రతిస్పందన

(5x1=5)

1. బ్రిటీషువారు మనలను ఓడించి పరిపాలించటానికి కారణం

()

(A) మన వద్ద రాజులు లేరు

(B) మన సైన్యానికి శిక్షణ లేదు

(C) మన రాజులలో ఐకమత్యము లేకపోవటం

(D) మన రాజులు వారితో స్నేహం చేయటం వలన

2. ప్రపంచ దేశాల మధ్యశాంతి నెలకొల్పడం వలన

()

(A) దేశాలన్ని అభివృద్ధి చెందుతాయి

(B) సైనికులు ఉద్యోగాలు కోల్పోతారు

(C) ఆయుధ కర్మాగారాలు మూతపడ్తాయి

(D) ఉగ్రవాదుల సంఖ్య పెరుగుతుంది.

3. నీటివృధాను తగ్గించాలంటే

()

(A) వినియోగం పెంచాలి

(B) అనవసర వాడకం తగ్గించుకోవాలి

(C) వనరులను సమర్థవంతంగా వినియోగించుకోవాలి

(D) నిలువ చేసుకోవాలి

4. రాజ్యాంగ లక్ష్యాలు సాధించాలంటే

()

(A) హక్కులను పెంచాలి

(B) బాధ్యతలను తగ్గించాలి

(C) హక్కులు, బాధ్యతలు రెండింటినీ అమలుపరచాలి

(D) న్యాయస్థానాలు పెంచాలి

5. జనాభా పెరుగుదలకు కారణం కానిది

()

(A) బాల్య వివాహాలు

(B) కుటుంబ నియంత్రణను పాటించకపోవడం

(C) అక్షరాస్యత

(D) మూఢనమ్మకాలు