

## వార్షిక పరీక్షలు ఏప్రిల్ - 2011

తరగతి : 7వ

విషయము: సాంఘిక శాస్త్రం

మాధ్యమం : తెలుగు

మార్కులు: 30

సమయం : గం.0.30 ని.

## పార్ట్ -B

## I. విషయావగాహన

(15x1=5)

A. ఈ క్రింది వానిలో సరియైన జవాబును ఎన్నుకొని, బ్రాకెట్‌లో వ్రాయండి

1. విమానాలు ప్రయాణించే పొర ( )  
(A) ట్రోపో ఆవరణం (B) స్ట్రాటో ఆవరణం (C) ఐనో ఆవరణం (D) ఐసో ఆవరణం
2. సముద్రాల వలన ఉపయోగం కానిది ( )  
(A) త్రాగునీరు (B) రవాణా (C) ఉప్పుతయారు (D) చేపల లభ్యత
3. కాకతీయుల కట్టడాలకు చక్కటి ఉదాహరణ ( )  
(A) బృహదీశ్వరాలయం (B) వేయిస్తంబాలగుడి (C) బేలూరు (D) హాళిబీడు
4. రాజ్యాంగ సభలో మహిళా సభ్యురాలు ( )  
(A) అనీబీసేంట్ (B) దుర్గాబాయి దేశ్‌ముఖ్ (C) సరోజినీనాయుడు (D) కస్తూరిబాయి
5. మన రాష్ట్రంలో అత్యధికంగా లభించే ఖనిజం ( )  
(A) ఇనుము (B) బంగారం (C) సున్నపురాయి (D) ముగ్గురాయి

B. ఈ క్రింది ఖాళీలలో సరియైన పదాలను పూరించండి.

(5x1=5)

6. మన రాష్ట్రంలో ప్రవహించే ప్రధాన నదులు .....
7. కోర్టులో ఫిర్యాదు చేయు వ్యక్తిని ..... అంటారు
8. విజయనగర సామ్రాజ్య స్థాపించిన సం॥ .....
9. క్రీ.శ.712 సం॥లో సింధు ప్రాంతంపై దాడి చేసినది .....
10. వాతావరణ పీడనాన్ని ..... పరికరంతో కొలుస్తారు.

## C. జతపరుచుము

(5x1=5)

A	B
11 ఉత్తర అమెరికా ( )	A అమెజాన్ నది
12 దక్షిణ అమెరికా ( )	B అత్యున్నత న్యాయస్థానం
13 భక్తి ఉద్యమం ( )	C 61.11 శాతం
14 సుప్రీంకోర్టు ( )	D పనామాకాలువ
15 మనరాష్ట్రంలో అక్షరాస్యత రేటు ( )	E శంకరాచార్యులు

## II. సమాచార నైపుణ్యం

(5x1=5)

### A. క్రింద యివ్వబడిన సమాచారం ఆధారంగా ప్రశ్నలకు జవాబులు వ్రాయండి

1. ఆంధ్రప్రదేశ్ జనాభా పెరుగుదల

సం	జనాభా పెరుగుదల శాతం
1951	14.02
1961	15.65
1971	20.90
1981	23.10

ప్ర: ఏ దశాబ్దంలో జనాభా పెరుగుదల అత్యధికంగా ఉంది.

జ:

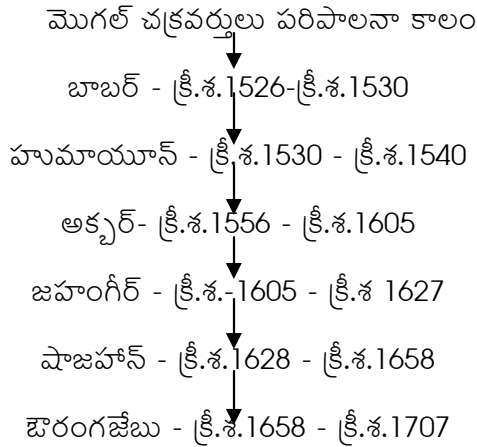
2.

రంగాలు	వృద్ధిరేటు (డిసెంబరు) (%లో)	
	2010	2009
ముడి చమురు	15.8	1.1
పెట్రోలియం రిఫైనరీ	8.3	0.9
బొగ్గు	3	1.2
తుది ఉక్కు	11.2	9.6
విద్యుత్	4.3	6.6
నెమెంట్	-2.2	11

ప్ర: 2009 సంవత్సరంలో అతి తక్కువ వృద్ధిరేటు నమోదైన రంగం ఏది?

జ:

3.



ప్ర: ఏ మొగల్ చక్రవర్తి ఎక్కువ కాలం పరిపాలించాడు?

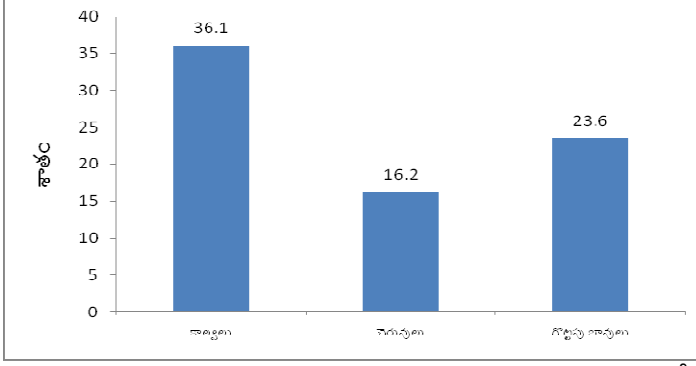
జ:

చోళులు సామ్రాజ్యాన్ని మండలాలగాను, వీటిని వలనాడులుగాను విభజించారు. వలనాడులను తిరిగి నాడులుగా విభజించారు.

ప్ర: చోళులు మండలాలను దేనిగా విభజించారు?

జ:

4. ఆంధ్రప్రదేశ్ లో వివిధ నీటిపారుదల వనరులు



ప్ర: కాలువలు, చెరువులు, గొట్టపు బావులు, ఇందులో ఏవి తక్కువ సాగునీటి పారుదలను అందిస్తున్నాయి.

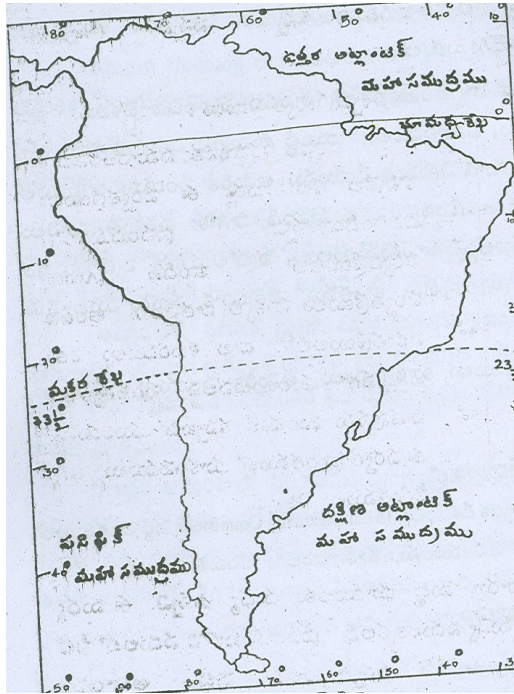
జ:

III. పట నైపుణ్యం

(5x1=5)

1. పటం చదవడం

(2x1=2)



1. దక్షిణ అమెరికా ఖండం చుట్టూ ఉన్న మహాసముద్రాలు ఏవి?
2. దక్షిణ అమెరికాను ఖండిస్తూ పోయే ప్రధాన అక్షాంశ రేఖలు ఏవి?

2. పటం గుర్తించటం

(3x1=3)



ఈ క్రింది ప్రదేశాలను గుర్తించండి

1. ప్రయాగ 2. మైసూరు 3. ఢిల్లీ

**IV. సామాజిక అంశాలపై ప్రతిస్పందన**

(5x1=5)

1. సబ్సిడీ బియ్యం పథకంపై మీ అభిప్రాయం

( )

(A) అందరికీ అవసరం (B) కొందరికీ అవసరం (C) బీదవారికి మాత్రమే (D) ధనికులకు

2. నేరాలు తగ్గలంటే

( )

(A) కఠినంగా శిక్షించాలి (B) సామాజిక చైతన్యం (C) విద్యాపరిజ్ఞానాన్ని పెంచడం

(D) పోలీసుల సంఖ్యను పెంచటం

3. ప్రభుత్వ ఆస్తులను కాపాడాల్సిన బాధ్యత

( )

(A) పోలీసులది (B) కోర్టులది (C) ప్రజలందరిది (D) యువకులది

4. భారత సమాజం ప్రస్తుతం ఎదుర్కొంటున్న ప్రధాన సమస్య

( )

(A) కులవివక్షత (B) అవినీతి (C) బాల్యవివాహాలు (D) వలసలు

5. మన రాష్ట్రంలో బాలకార్మికులు ఎక్కువగా ఉండడానికి కారణం

( )

(A) పిల్లల సంఖ్య పెరగడం (B) పేదరికం (C) నిరక్షరాస్యత

(D) వ్యవసాయ పనులకు అలవాటుపడడం