

వార్షిక పరీక్షలు ఏప్రిల్ - 2011

తరగతి : 6వ

విషయము: సాంఘిక శాస్త్రం

మాధ్యమం : తెలుగు

మార్కులు: 30

సమయం : గం.0.30 ని.

పార్ట్ - B

I. విషయావగాహన

(5x1=5)

A. ఈ క్రింది వానిలో సరియైన జవాబును ఎన్నుకొని, బ్రాకెట్‌లో వ్రాయండి

1. భూమిపై గల రాతిపొర ()
(A) ఆశ్మావరణము (B) వాతావరణము (C) జీవావరణము (D) జలావరణము
2. ఖండాలను వేరు చేస్తూ ఉన్న ఉప్పు నీటి భాగాలు ()
(A) మహాసముద్రాలు (B) సరస్సులు (C) నదులు (D) జలపాతాలు
3. క్రింది వానిలో ఇతిహాస గ్రంథం ()
(A) రామాయణం (B) త్రిపీటకాలు (C) త్రిరత్నాలు (D) వేదాలు
4. పిల్లలకు మొదటి పాఠశాలగా దీనిని పరిగణిస్తాము ()
(A) కుటుంబం (B) సమాజం (C) కులం (D) మతం
5. ఉత్పత్తి కారకం కానిది ()
(A) భూమి (B) శ్రమ (C) కారు (D) మూలధనం

B. ఈ క్రింది ఖాళీలను సరియైన పదాలతో పూరించండి.

(5x1=5)

1. టండ్రా అనగా
2. సంచార జాతికి చెందినవారు
3. దశరాజ్ఞ యుద్ధము అనగా
4. ఆరోగ్యశ్రీ అనగా
5. యంత్ర సామాగ్రి వస్తువుకు ఉదాహరణ

C. జతపరచండి

(5x1=5)

A		B
1 కుషాణుల రాజధాని	()	A చరకుడు
2 దైవపుత్ర	()	B కుషాణుల శిల్పకళ
3 చరక సంహిత	()	C కనిష్కుడు
4 సౌందర్య నందం	()	D పురుషపురం
5 గాంధార శిల్పకళ	()	E అశ్వ ఘోషుడు

II. సమాచార నైపుణ్యాలు

(5x1=5)

క్రింద ఇవ్వబడిన ప్రతి ప్రశ్నలోని సమాచారాన్ని చదివి, మీ జవాబును ఒకటి లేదా రెండు పదాలలో వ్రాయండి.

1. ద్వితీయ భూస్వరూపాలు

పర్వతాలు	800 మీ. కన్నా ఎత్తుగా ఉంటాయి.
పీఠభూములు	మిట్ట పల్లాలతో ఉండే సమతలమైన ఉపరితలం
మహాసముద్రభూతలం	మహా సముద్రాల అడుగునేల

ప్ర: 800 మీ. కన్నా తక్కువ ఎత్తుగా ఉన్న భూస్వరూపంను ఏమంటారు?

జ:

2. ఆసియా ఖండపు దేశాలు - విస్తీర్ణం

క్ర.సం.	దేశం	మి.చ.కి.మీ.లు
1	భారతదేశం	3.28
2	చైనా	9.50
3	థాయిలాండ్	0.51

ప్ర: విస్తీర్ణంలో చైనా, భారతదేశం కన్నా సుమారుగా ఎన్ని రెట్లు పెద్దది

జ:

3. గుప్తసామ్రాజ్య పరిపాలన

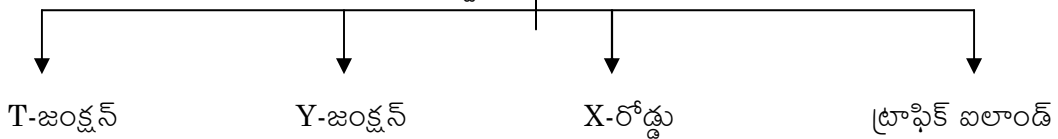
రాజు	పరిపాలనాకాలం
మొదటి చంద్రగుప్తుడు	క్రీ.శ.320-క్రీ.శ.330
రెండవ చంద్రగుప్తుడు	క్రీ.శ.375-క్రీ.శ.415
హర్షవర్ధనుడు	క్రీ.శ.606-క్రీ.శ.647

ప్ర: పై పట్టికలో ఏ రాజు ఎక్కువ కాలం పరిపాలించాడు?

జ:

4.

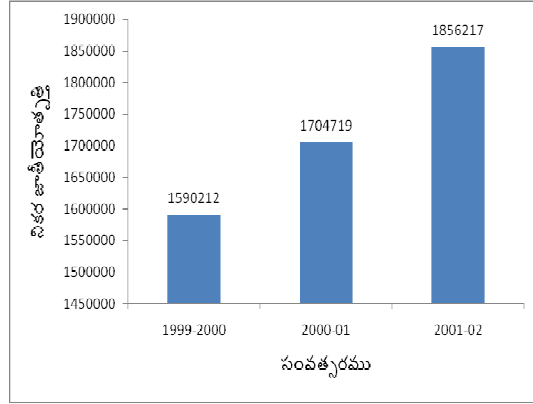
రోడ్డు కూడలి - రకాలు



ప్ర: ఒక రోడ్డును మరియొక రోడ్డు లంబంగా కలిపే ప్రదేశం

జ:

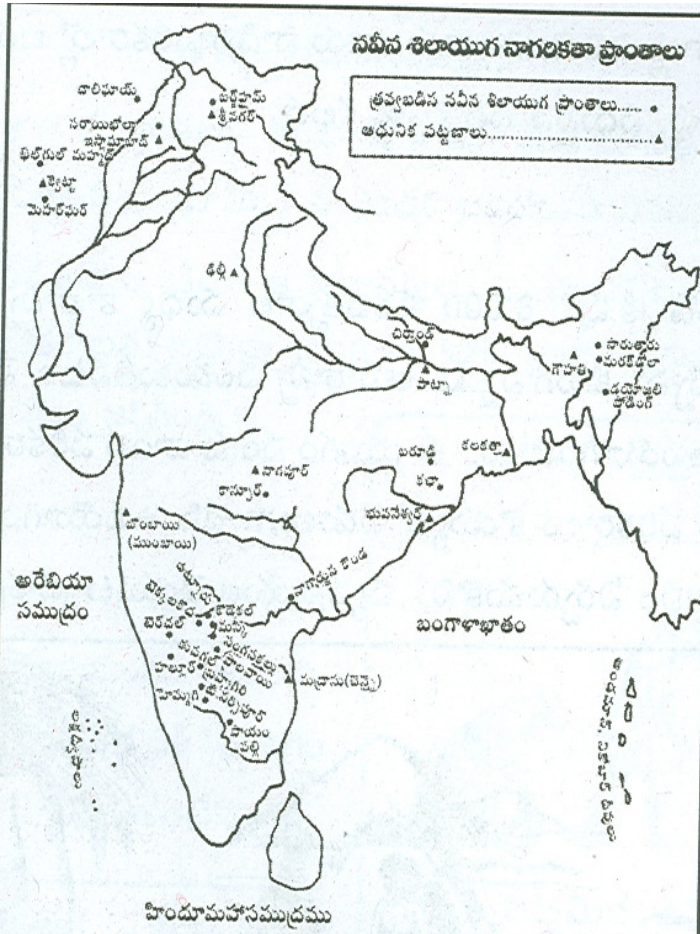
5.



ప్ర: ఏ సంవత్సరములో నికర జాతీయోత్పత్తి తక్కువ జు:

III. పట నైపుణ్యాలు పటాన్ని చదవడం

(5x1=5)



1. పటాన్ని పరిశీలించి ఆధునిక పట్టణాలను రాయండి?

జు:

2. భారతదేశం దక్షిణాన ఉన్న సముద్రం?

జు:

3. నవీన శిలాయుగ నాగరికత ప్రాంతానికి చెందిన పేర్లు రాయండి?

జు:

4. Δ గుర్తు దేనిని సూచిస్తుంది?

జు:

5. భారతదేశానికి పశ్చిమాన గల సముద్రం ఏది?

జు:

IV. సామాజిక అంశాలపై ప్రతిస్పందన

(5x1=5)

1. మానవుడు నిప్పును కనుగొనడానికి కారణం ()
(A) ఒక చోటునుండి మరి యొక చోటుకు సంచరించడం వలన
(B) ఆహారాన్ని వండుకు తినటం కోసం
(C) వేటాడటం కోసం
(D) వ్యవసాయం చేయటం కోసం
2. చింతలు లేని కుటుంబం కోసం ()
(A) పెద్దకుటుంబాన్ని ఏర్పాటు చేసుకోవాలి
(B) చిన్న కుటుంబం ఉండాలి
(C) కుటుంబంలో పురుషులు ఎక్కువగా ఉండాలి
(D) కుటుంబంలోని వ్యక్తులందరికీ పూర్తి స్వేచ్ఛను ఇవ్వాలి
3. క్రింది వానిలో ఏది దురాచారము? ()
(A) కలిసి మెలిసి ఉండటం
(B) వరకట్నం
(C) పెద్దలను గౌరవించటం
(D) క్రమశిక్షణను కలిగి ఉండటం
4. ప్రభుత్వ ఆస్తులకు నష్టం కలుగచేస్తే ()
(A) ప్రభుత్వం మారుతుంది
(B) ప్రజలు తీవ్ర అసౌకర్యానికి గురవుతారు
(C) నష్టాన్ని ప్రభుత్వం భరిస్తుంది
(D) నాయకులకు భయమేస్తుంది
5. క్రింది వానిలో ఏది చేస్తే రోడ్డు నియమం పాటించినట్లు ()
(A) వాహనాన్ని వేగంగా నడపటం
(B) విలువైన ఆభరణాల్ని ధరించి రహదారిపై ప్రయాణించటం
(C) జీబ్రా క్రాసింగ్ వద్ద రోడ్డును దాటడం
(D) సెల్ఫోన్లో మాట్లాడుతూ వాహనాన్ని నడపటం